

**GELDREKENEN**

**MET**

**DE**

**EURO**

**Inleiding:**

Het geld waarmee wij in Nederland en in vele andere Europese landen kunnen betalen, noemen we euro. Het woord euro komt van Europa.

Het euro – geld bestaat uit:

- munten
- bankbiljetten

Muntgeld is geld van “metaal” en is rond.  
Bankbiljetten is geld van “papier”.

**Het muntgeld:**

Het euro – geld heeft 8 munten. Dat zijn...

- euro – centen
- euro – munten

Vraag aan je leraar het kaartje met het euro – muntgeld. Teken al het euro – muntgeld hier-naast op deze bladzijde!

**Teken hieronder**  
**al het euro-**  
**munten!**

Noteer hieronder welke euro – centen het euro-geld heeft?

- \_\_\_\_\_
- \_\_\_\_\_
- \_\_\_\_\_
- \_\_\_\_\_
- \_\_\_\_\_
- \_\_\_\_\_

Noteer hieronder welke euro – munten het euro-geld heeft?

- \_\_\_\_\_
- \_\_\_\_\_

**Je kunt met al die euro – centen en euro – munten niet evenveel kopen. Wat kun je kopen met één munt van ...**

- 1 eurocent? \_\_\_\_\_
- 2 eurocent? \_\_\_\_\_
- 5 eurocent? \_\_\_\_\_
- 10 eurocent? \_\_\_\_\_
- 20 eurocent? \_\_\_\_\_
- 50 eurocent? \_\_\_\_\_
- 1 euro? \_\_\_\_\_
- 2 euro? \_\_\_\_\_

**Zoals je hierboven gezien hebt, kun je niet evenveel kopen met iedere munt van de euro. Dat betekent dat iedere euro – munt niet evenveel waard is. Met 50 eurocent kun je meer kopen dan met 5 eurocent. Daarom is 50 eurocent meer waard dan 5 eurocent.**

**Welke euro – munt is meer waard? (Voor welke munt kun je dus meer kopen?)**

- 1 eurocent of 1 euro? \_\_\_\_\_
- 2 euro of 2 eurocent? \_\_\_\_\_
- 10 eurocent of 50 eurocent? \_\_\_\_\_
- 20 eurocent of 2 euro? \_\_\_\_\_
- 50 eurocent of 1 euro? \_\_\_\_\_
- 20 eurocent of 2 eurocent? \_\_\_\_\_
- 1 euro of 2 euro? \_\_\_\_\_
- 10 eurocent of 5 eurocent? \_\_\_\_\_
- 20 eurocent of 2 euro? \_\_\_\_\_

**Welke euro – munt is het minst waard? ( Voor welke euro – munt kun je dus het minst kopen?)**

- \_\_\_\_\_

**Welke euro – munt is het meest waard? (Voor welke euro – munt kun je dus het meest kopen?)**

- \_\_\_\_\_

**Opdracht 1:**

**Vul de onderstaande rij op de goede manier aan!**

- 1 euro is 100 eurocent
- 2 euro is \_\_\_ eurocent
- 3 euro is \_\_\_ eurocent
- 4 euro is \_\_\_ eurocent
- 5 euro is \_\_\_ eurocent
- 6 euro is \_\_\_ eurocent
- 7 euro is \_\_\_ eurocent
- 8 euro is \_\_\_ eurocent
- 9 euro is \_\_\_ eurocent
- 10 euro is \_\_\_ eurocent

**Opdracht 2:**

**Vul de onderstaande rij op de goede manier aan!**

- 1 euro zijn 100 munten van 1 eurocent
- 1 euro zijn \_\_\_ munten van 2 eurocent
- 1 euro zijn \_\_\_ munten van 5 eurocent
- 1 euro zijn \_\_\_ munten van 10 eurocent
- 1 euro zijn \_\_\_ munten van 20 eurocent
- 1 euro zijn \_\_\_ munten van 50 eurocent

**Opdracht 3:**

**Hoeveel eurocent heb je als je .....**

- 45 munten van 1 eurocent hebt? \_\_\_\_\_
- 22 munten van 2 eurocent hebt? \_\_\_\_\_
- 13 munten van 5 eurocent hebt? \_\_\_\_\_
- 12 munten van 10 eurocent hebt? \_\_\_\_\_
- 4 munten van 50 eurocent hebt? \_\_\_\_\_
- 15 munten van 1 euro hebt? \_\_\_\_\_
- 7 munten van 2 euro hebt? \_\_\_\_\_

**Opdracht 4:**

**Hoeveel eurocent heb je als je .....**

- 16 munten van 2 eurocent + 7 munten van 5 eurocent hebt? \_\_\_\_\_
- 56 munten van 1 eurocent + 8 munten van 2 eurocent hebt? \_\_\_\_\_
- 8 munten van 20 eurocent + 2 munten van 2 euro hebt? \_\_\_\_\_
- 7 munten van 50 eurocent + 6 munten van 1 euro hebt? \_\_\_\_\_
- 4 munten van 20 eurocent + 9 munten van 5 eurocent hebt? \_\_\_\_\_

**Opdracht 5:**

Hieronder zie je allemaal wat er op de rommelmarkt te koop is.  
Bekijk deze bladzijde goed en ga dan naar de volgende bladzijde!



**Opdracht 6:**


Je hebt op de vorige bladzijde gezien wat er allemaal te koop is op de rommelmarkt. Je koopt alle spullen die op deze bladzijde en op de volgende bladzijde staan met gepast geld. Als je met gepast geld betaalt, betaal je precies genoeg. Niet te veel en niet te weinig. Je noteert de prijs van alle spullen en daarnaast schrijf je op hoe je die spullen betaalt met gepast geld, maar met zo weinig mogelijk muntgeld!



\_\_\_\_\_ eurocent



\_\_\_\_\_ eurocent



\_\_\_\_\_ eurocent



\_\_\_\_\_ eurocent



\_\_\_\_\_ eurocent



\_\_\_\_\_ eurocent



\_\_\_\_\_ eurocent



\_\_\_\_\_ eurocent



\_\_\_\_\_ eurocent



\_\_\_\_\_ eurocent



\_\_\_\_\_ eurocent



\_\_\_\_\_ eurocent



eurocent



eurocent



eurocent



eurocent




eurocent



eurocent


**Opdracht 7:**

Hieronder zie je de spaarvarkens van Ans, Kees, Bart, Karin, Tom en Carla. Hoeveel eurocent zit er in hun spaarvarken? Noteer het aantal eurocenten op de spaarvarkens!




naam: *Ans*

1 van 10 eurocent  
2 van 20 eurocent  
1 van 50 eurocent




naam: *Kees*

6 van 10 eurocent  
2 van 20 eurocent  
4 van 50 eurocent




naam: *Bart*

0 van 10 eurocent  
5 van 20 eurocent  
8 van 50 eurocent




naam: *Karin*

4 van 10 eurocent  
8 van 20 eurocent  
8 van 50 eurocent



naam: *Tom*

1 van 10 eurocent  
2 van 20 eurocent  
3 van 50 eurocent




naam: *Carla*

5 van 10 eurocent  
5 van 20 eurocent  
5 van 50 eurocent



**Opdracht 8:**

Er is nog veel meer te koop op de rommelmarkt. Kijk maar eens goed naar de spullen op deze bladzijde! Als je alles bekeken hebt, ga je naar de volgende bladzijde!



**Opdracht 9:**

**Als je alles goed bekeken hebt op de vorige bladzijde, weet je wat je wilt kopen. Wat je wilt kopen, staat hieronder. Je betaalt weer met gepast geld. Schrijf op hoeveel eurocent alle spullen kosten en daarnaast schrijf je op met welke munten je gepast betaalt met zo weinig mogelijk munten!**



\_\_\_\_\_ eurocent



\_\_\_\_\_ eurocent



\_\_\_\_\_ eurocent













\_\_\_\_\_ eurocent



\_\_\_\_\_ eurocent

**Opdracht 10:**

Je hebt nu nog alleen muntgeld van 1 euro in je portemonnee, maar je koopt toch nog spullen op de rommelmarkt. Die spullen zie je hieronder. Schrijf de prijs van de spullen op en schrijf naast de euro op hoeveel eurocent je nog terugkrijgt!

|   |   |  |
|---|---|--|
| <br>eurocent   |    |  |
| <br>eurocent   |    |  |
| <br>eurocent |  |  |
| <br>eurocent |  |  |
| <br>eurocent |  |  |

**Opdracht 11:**


De supermarkt, waar jij altijd je boodschappen doet, heeft aanbiedingen. Heel veel producten zijn goedkoper dan op andere dagen. Al die aanbiedingen zie je hieronder op deze bladzijde en op de volgende bladzijde staan. Bekijk alle aanbiedingen maar eens goed!



Fijne verse worst  
100 gram **83**




**98**




150 gram  
**82**



Rijstepap,  
haver, moutpap  
of gortepap **73**



**61**



100 gram **69**




**88**

**76**



**96**



**94**

kleintje **78**





Houdbare vla  
vanille, **77**

**Bio-kwark Aardbeien-  
of Vanillekwark**



**Mona**  
toetje met room  
vanille, chocolade  
of caramel  
beker  
125 gram

**45**



**Fancy  
Pink Zalm**

blik 220 gram

**99**



**on**

**boeren-  
groentensoep**

heel blik

**95**



**74**



Huzarensalade

**45**

**Pluma paté**

Crème Champignons  
of Ardenner Peper

100 gram

**52**

**zuurkool**


„vers uit het vat”

500 gram

**49**

**Honig  
Luxe Soepen**

Tijgerbolletjes **93**  
6 stuks



**86**



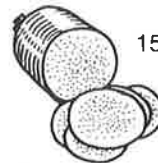
Franse champignons,  
Franse aspergecrème,  
Engelse ossenstaart,  
tomaten crème

**Opdracht 12:**

**Je koopt veel aanbiedingen. De aanbiedingen, die je koopt, staan op deze bladzijde en op de volgende bladzijde. Elke aanbieding betaal je met gepast geld. Noteer de prijs van elke aanbieding en daarnaast schrijf je op met welke munten je gepast betaalt met zo weinig mogelijk munten!**



Dat kost: \_\_\_\_\_



150 gram

Dat kost: \_\_\_\_\_

Tijgerbolletjes  
6 stuks



Dat kost: \_\_\_\_\_



**Mona**  
toetje met room

Dat kost: \_\_\_\_\_



Dat kost: \_\_\_\_\_

**Fancy  
Pink Zalm**

blik 220 gram

Dat kost: \_\_\_\_\_

**Pluma paté**

Crème Champignons  
of Ardenner Peper  
100 gram

Dat kost: \_\_\_\_\_



Dat kost: \_\_\_\_\_



Houdbare vla  
vanille

Dat kost: \_\_\_\_\_



Dat kost: \_\_\_\_\_



100 gram

Dat kost: \_\_\_\_\_



Dat kost: \_\_\_\_\_



Dat kost: \_\_\_\_\_



Dat kost: \_\_\_\_\_



Dat kost: \_\_\_\_\_

Fijne verse worst  
100 gram



Dat kost: \_\_\_\_\_

**zuurkool**  
„vers uit het vat”  
100 gram

Dat kost: \_\_\_\_\_

**on**  
⊕ **boeren-  
groentensoep**  
heel blik



Dat kost: \_\_\_\_\_



100 gram

Dat kost: \_\_\_\_\_



Dat kost: \_\_\_\_\_



Dat kost: \_\_\_\_\_

kleintje



Dat kost: \_\_\_\_\_



**Bio-kwark  
Aardbeien**

Dat kost: \_\_\_\_\_



Dat kost: \_\_\_\_\_

**Opdracht 13:**

**Erik is vandaag jarig. Voor zijn verjaardag krijgt hij geld van zijn vader, moeder, zus, opa, oom en tante. Noteer hieronder hoeveel euro hij van iedere persoon krijgt! Tel dan alle euro's bij elkaar op en kleur de euro-teller tot het aantal euro's dat Erik vandaag krijgt!**



Vader gaf:

10 munten van



Samen \_\_\_\_\_ euro.



Moeder gaf:

2 munten van



en

16 munten van



Samen \_\_\_\_\_ euro.



Zus gaf:

1 munt van



4 munten van



en

10 munten van



Samen \_\_\_\_\_ euro.

200

190

180

170

160

150

140

130

120

110

100

90

80

70

60

50

40

30

20

10



Opa gaf:

10 munten van



Samen \_\_\_\_\_ euro.



Oom gaf:

3 munt van



en

20 munten van



Samen \_\_\_\_\_ euro.



Tante gaf:

1 munt van



6 munten van



en

10 munten van









Samen \_\_\_\_\_ euro.



**Opdracht 14:**

**Je wilt nog meer aanbiedingen in de supermarkt kopen. Die aanbiedingen staan op bladzijde 11 en 12. Je hebt steeds twee euro. Welke twee producten kun je voor die twee euro kopen? Schrijf die twee producten hieronder op en reken uit hoeveel eurocent je terugkrijgt! Koop steeds twee andere producten!**

|   |   |                 |
|---|---|-----------------|
|    | Ik koop:<br><br>en<br><br>Samen _____ eurocent. | Ik krijg terug: |
|    | Ik koop:<br><br>en<br><br>Samen _____ eurocent. | Ik krijg terug: |
|  | Ik koop:<br><br>en<br><br>Samen _____ eurocent. | Ik krijg terug: |
|  | Ik koop:<br><br>en<br><br>Samen _____ eurocent. | Ik krijg terug: |
|  | Ik koop:<br><br>en<br><br>Samen _____ eurocent. | Ik krijg terug: |
|  | Ik koop:<br><br>en<br><br>Samen _____ eurocent. | Ik krijg terug: |

**Opdracht 15:**

Het woord "euro" kun je ook op een andere manier opschrijven. Dat kun je doen met dit teken:



Schrijf dit euro – teken eens vijf keer op! \_\_\_\_\_

Als je bijvoorbeeld drie euro wilt opschrijven, dan doe je dat zo:

- drie euro = € 3,00

Schrijf de volgende euro – bedragen op met het euro – teken:

- twee euro = \_\_\_\_\_
- acht euro = \_\_\_\_\_
- vijftien euro = \_\_\_\_\_
- achtendertig euro = \_\_\_\_\_
- zestig euro = \_\_\_\_\_
- vierenzestig euro = \_\_\_\_\_
- honderd euro = \_\_\_\_\_

Als je nu drie euro en vijftien eurocent moet opschrijven, dan doe je dat zo:

- drie euro en vijftien eurocent = € 3,15

Je schrijft eerst het euro – teken op.

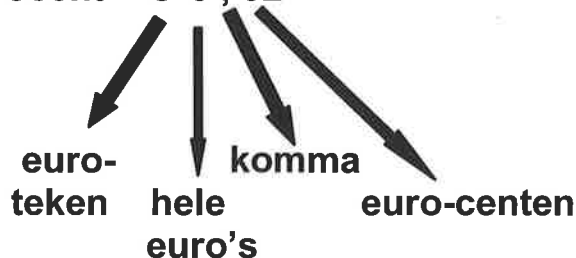
Daarna schrijf je de hele euro's op.

Dan schrijf je een komma.

Als laatste schrijf je de eurocenten op.

Achter de komma moet je altijd twee cijfers schrijven.

- vijf euro en twee eurocent = € 5 , 02



Schrijf nu de volgende euro – bedragen op met het euro – teken!

- acht euro en tachtig eurocent = \_\_\_\_\_

- acht euro en acht eurocent = \_\_\_\_\_
- twintig euro en twintig eurocent = \_\_\_\_\_
- twintig euro en twee eurocent = \_\_\_\_\_
- tweeënveertig euro en vierentwintig eurocent = \_\_\_\_\_
- zestig euro en zes eurocent = \_\_\_\_\_
- zestig euro en zestig eurocent = \_\_\_\_\_

**Opdracht 16:**

**Hoeveel hele euro's en hoeveel eurocenten staan er in de volgende euro-bedragen?**

- € 2,02 = \_\_\_\_\_
- € 9,09 = \_\_\_\_\_
- € 11,11 = \_\_\_\_\_
- € 21,07 = \_\_\_\_\_
- € 54,32 = \_\_\_\_\_
- € 77,17 = \_\_\_\_\_
- € 98,89 = \_\_\_\_\_

**Opdracht 17:**

**Zoals je weet, bestaat het euro – geld uit....**


- muntgeld
- bankbiljetten

**Als je grotere bedragen moet betalen, is het gemakkelijker om met bankbiljetten te betalen dan met muntgeld. Als je bijvoorbeeld € 125,00 moet betalen en je zou dat allemaal met muntgeld moeten betalen dan zou je wel erg veel muntgeld bij je moeten hebben. Om grotere bedragen te betalen, gebruiken we dus euro – bankbiljetten. We hebben 7 verschillende euro – bankbiljetten. Die bankbiljetten zie je op de volgende bladzijde.**

**Noteer de waarde van elk euro – bankbiljet en begin met het euro – bankbiljet waarmee je het minste kunt kopen!**

- \_\_\_\_\_
- \_\_\_\_\_
- \_\_\_\_\_
- \_\_\_\_\_
- \_\_\_\_\_
- \_\_\_\_\_
- \_\_\_\_\_

## DE EURO – BANKBILJETTEN:



**Opdracht 18:**

**Hoeveel euro zijn....**

- twee bankbiljetten van 200 euro + drie bankbiljetten van 5 euro waard? \_\_\_\_\_
- vier bankbiljetten van 20 euro + zes bankbiljetten van 500 euro waard? \_\_\_\_\_
- negen bankbiljetten van 10 euro + tien bankbiljetten van 50 euro waard? \_\_\_\_\_
- drie bankbiljetten van 200 euro + zeven bankbiljetten van 5 euro waard? \_\_\_\_\_
- twee bankbiljetten van 500 euro + twaalf bankbiljetten van 20 euro waard? \_\_\_\_\_
- zeven bankbiljetten van 100 euro + zeven bankbiljetten van 50 euro waard? \_\_\_\_\_

**Opdracht 19:**

**Noteer met het euro – teken! Hoeveel zijn.....**

- drie bankbiljetten van 500 euro + drie munten van 2 euro waard?  
€ \_\_\_\_\_
- negen bankbiljetten van 10 euro + zes munten van 1 eurocent waard?  
€ \_\_\_\_\_
- vijf bankbiljetten van 200 euro + acht munten van 1 euro waard?  
€ \_\_\_\_\_
- acht bankbiljetten van 20 euro + vijf munten van 50 eurocent waard?  
\_\_\_\_\_
- één bankbiljet van 5 euro + zeven munten van 20 eurocent waard?  
\_\_\_\_\_

**Opdracht 20:**

**Waar is het vlees duur en waar is het vlees goedkoop? Op bladzijde 21 staat een overzicht van soorten vlees van de supermarkten Albert Heijn, C1000, Edah, Super De Boer, Plus Markt, A & P en Grootslagerij Rosie. Gebruik dit overzicht om het overzicht op bladzijde 22 in te vullen!**

# KIJK EN VERGELIJK!!

Consumentenprijzen in week 39

EN DAN ONZE PRIJZEN VAN DEZE WEEK!!

| Prijzen per kilo in euro's               | Albert Heijn | C 1000       | Edah         | Super De Boer | Plus Markt    | A&P           | Grootslagerij Rosie |
|--|--------------|--------------|--------------|---------------|---------------|---------------|---------------------|
| Hamlappen                                | 7,95         | 4,10 *       | 7,60         | 7,95          | 8,50          | 7,65          | 4,55                |
| Schouderkarbonade                        | 6,15         | 4,99         | 5,40         | 5,85          | 6,35          | 5,45          | 3,65                |
| Varkensschnitzel                         | 11,30        | 9,05         | 10,45        | 11,10         | 11,30         | 11,30         | 7,25                |
| Varkenshaas                              | 14,90        | 13,60        | 14,50        | 14,90         | 13,55         | 14,95         | 10,90               |
| Biefstuk                                 | 14,90 *      | 11,35        | 14,90        | 14,90         | 11,30 *       | 15,45         | 9,65                |
| Magere runderlappen                      | 11,10        | 9,05         | 9,99         | 10,20         | 10,40         | 10,45         | 9,99                |
| Riblappen                                | 9,50         | 6,80         | 7,70         | 9,50          | 9,50          | 7,25          | 4,99                |
| Rundergehakt                             | 4,75         | 4,50         | 4,99         | 3,15 *        | 6,35          | 5,70          | 3,65                |
| Halfom gehakt                            | 4,05         | 4,10         | 4,50         | 5,40          | 5,40          | 5,25          | 4,65                |
| Kipfilet (Hollandse)                     | 5,85 *       | 7,25         | 7,20         | 8,15          | 8,50          | 8,10          | 6,35                |
| Kippenbouten                             | 3,65         | 3,15         | 3,15         | 3,90          | 3,15          | 3,40          | 2,50                |
| Slavinken                                | 4,95 *       | 7,05         | 7,25         | 7,50          | 8,15          | 7,50          | 6,50                |
| <b>GEMIDDELDE PRIJS van 12 artikelen</b> | <b>8,25</b>  | <b>7,08</b>  | <b>8,14</b>  | <b>8,54</b>   | <b>8,53</b>   | <b>8,54</b>   | <b>6,22</b>         |
| <b>TOTAAL van 12 artikelen</b>           | <b>99,05</b> | <b>84,99</b> | <b>97,63</b> | <b>102,45</b> | <b>102,35</b> | <b>102,45</b> | <b>74,63</b>        |

\*Reclame

Bron: Vleeskrant 23-09-2000

**kipfilet**  
populair  
heel kilo **4.55**

**runderkogelbiefstuk**  
heel kilo **9.99**

**hamburgers**  
10 stuks  
heel kilo **2.75**

**reepjesvlees**  
heel kilo **3.65**

ALLEEN DE ZAKEN MET \* OP DE DEBRUIKELIJKE KOOPAVOND GEOPEND  
ALLEEN DE ZAKEN MET \*\* OOK OP MAANDAG OPEN!!

BEZOEK ONZE INTERNET PAGINA: [www.grootslagerij-rosie.nl](http://www.grootslagerij-rosie.nl)

Geldig 1/m  
zaterdag  
7 oktober  
o.s.

**Grootslagerij**  
**Rosie**



De Echte slager

VOOR UW TROUWE VIERTIETTER

VANWEGE  
DIERENDAG ALLE  
HARTEN **1.25**  
per kilo

+ GRATIS BOT!

smuldiervoeding **0.45**  
per bak

| soort vlees | naam winkel | duurste | naam winkel | goedkoopste | verschil |
|-------------|-------------|---------|-------------|-------------|----------|
| Hamlappen   | Plusmarkt   | € 8,50  | C-1000      | € 4,10      | € 4,40   |
|             |             |         |             |             |          |
|             |             |         |             |             |          |
|             |             |         |             |             |          |
|             |             |         |             |             |          |
|             |             |         |             |             |          |
|             |             |         |             |             |          |
|             |             |         |             |             |          |
|             |             |         |             |             |          |
|             |             |         |             |             |          |














Welke winkel heeft de meeste goedkope vleeswaren? Dat is .....

Welke winkel heeft het meeste dure vleeswaren? Dat is .....

**Opdracht 21:**

**Hoeveel munten van 2 euro kun je van de euro – bedragen maken die hieronder staan? Noteer die bedragen!**

**Kleur de euro – teller tot het bedrag dat hier samen op deze bladzijde staat!**

|   |  |   |
|---|--|---|
| <br><br><p>_____ munten van 2 euro</p>  | <p>€ 200</p> <p>€ 190</p> <p>€ 180</p> <p>€ 170</p> <p>€ 160</p> <p>€ 150</p> <p>€ 140</p> <p>€ 130</p> <p>€ 120</p> <p>€ 110</p> <p>€ 100</p> <p>€ 90</p> <p>€ 80</p> <p>€ 70</p> <p>€ 60</p> <p>€ 50</p> <p>€ 40</p> <p>€ 30</p> <p>€ 20</p> <p>€ 10</p> | <br><br><p>_____ munten van 2 euro</p>  |
| <br><p>_____ munten van 2 euro</p>  |  | <br><br><p>_____ munten van 2 euro</p>   |
| <br><br><br><p>_____ munten van 2 euro</p> |  | <br><br><br><p>_____ munten van 2 euro</p> |

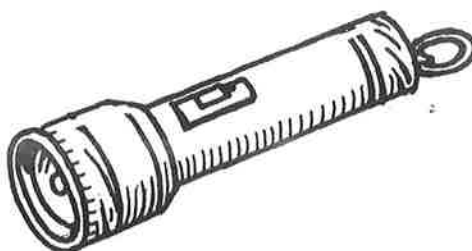


**Opdracht 22:**

Hieronder staat de prijslijst van enkele artikelen van de winkel van meneer Peters in Lisse. Bekijk die prijslijst maar goed!




haarborstel € 2,00



zaklamp € 3,00



veldfles € 3,00




glazen per stuk  
€ 1,00



paar sokken € 2,00



sporttas € 9,00





doos balpennen  
€ 4,00



haargel € 1,00






badmintonset  
€ 6,00



tennisracket  
€ 7,00

**Opdracht 24:**

**Je koopt de onderstaande artikelen in de winkel van meneer Peters. Noteer de prijzen van de artikelen! Daarnaast staat het bankbiljet waarmee je dat artikel betaalt. Noteer tenslotte het bedrag dat je terugkrijgt!**

| Ik koop:                                | Ik betaal met:  | Ik krijg terug:              |
|---|---|------------------------------|
| 1 pot haargel<br><br>€ _____ , _____    |    | Ik noteer: → € _____ , _____ |
| 1 doos balpennen<br><br>€ _____ , _____ |    | Ik noteer: → € _____ , _____ |
| 1 sporttas<br><br>€ _____ , _____       |  | Ik noteer: → € _____ , _____ |
| 1 veldfles<br><br>€ _____ , _____       |  | Ik noteer: → € _____ , _____ |
| 1 paar sokken<br><br>€ _____ , _____    |  | Ik noteer: → € _____ , _____ |

**Opdracht 25:**

Ook de onderstaande artikelen zijn te koop in de winkel van meneer Peters. Kijk er maar eens goed naar!



€ 12,98



€ 4,50


€ 1,94



€ 8,72



€ 3,99



€ 2,80




€ 3,75

€ 6,92



€ 9,75



€ 9,65









€ 9,50

€ 12,45



**Opdracht 26:**

**Je koopt artikelen in de winkel van meneer Peters. De artikelen staan op bladzijde 26. Noteer welk artikel je koopt! Daarnaast staat het bankbiljet waarmee je betaalt. Noteer tenslotte welk bedrag je terugkrijgt!**

|  |   |   |
|--|---|---|
| <p>Ik koop:<br/>.....</p> <p>Dat kost:<br/>.....</p> <p>Ik noteer: € _____ , _____</p> | <p>Ik heb:</p>   | <p>Ik krijg terug:<br/>.....</p> <p>€ _____ , _____</p> |
| <p>Ik koop:<br/>.....</p> <p>Dat kost:<br/>.....</p> <p>Ik noteer: € _____ , _____</p> | <p>Ik heb:</p> <br>  | <p>Ik krijg terug:<br/>.....</p> <p>€ _____ , _____</p> |
| <p>Ik koop:<br/>.....</p> <p>Dat kost:<br/>.....</p> <p>Ik noteer: € _____ , _____</p> | <p>Ik heb:</p>   | <p>Ik krijg terug:<br/>.....</p> <p>€ _____ , _____</p> |
| <p>Ik koop:<br/>.....</p> <p>Dat kost:<br/>.....</p> <p>Ik noteer: € _____ , _____</p> | <p>Ik heb:</p> <br> | <p>Ik krijg terug:<br/>.....</p> <p>€ _____ , _____</p> |

## Opdracht 27:

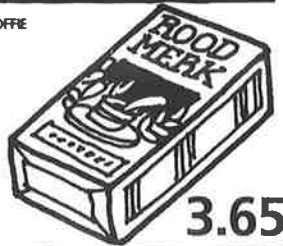
Hieronder staat de prijslijst van vele artikelen van de Plus Markt met vele aanbiedingen. Bekijk die prijslijst eens goed!

Negenmaal extra voordeel, dat kunt u best gebruiken. Met als supervoordeel 4 pakken roodmerk koffie voor slechts € 3.65. Daarnaast een hele reeks artikelen, extra voordelig geprijsd.

|  |             |
|--|-------------|
| MAGER RUNDERGEHAKT<br>1000 gram              | <b>5.34</b> |
| VARKENSFILET<br>stuk of lapjes,<br>1000 gram | <b>6.48</b> |
| RUNDERBRAADSTUK<br>1000 gram                 | <b>7.52</b> |
| KOMKOMMER<br>per stuk                        | <b>54</b>   |
| TOMATEN<br>500 gram                          | <b>98</b>   |
| PEPERKAAS MARTIN<br>100 gram                 | <b>89</b>   |
| PEPERBRIE<br>100 gram                        | <b>1.19</b> |
| BRIE<br>GASTRONOME<br>100 gram               | <b>83</b>   |
| RUNDER-<br>ROOKVLEES<br>100 gram             | <b>1.43</b> |
| BOTERHAMWORST<br>100 gram                    | <b>44</b>   |
| LEVERKAAS<br>100 gram                        | <b>68</b>   |
| KIPS LEVERWORST<br>250 gram                  | <b>87</b>   |
| SAKSISCHE<br>LEVERWORST<br>100 gram          | <b>44</b>   |
| FRUESCHE VLAG GOULDBAND<br>pak, 500 ml.      | <b>98</b>   |
| MELITTA<br>FILTERZAKJES 102<br>80 stuks      | <b>77</b>   |
| THEEZAKJES ROOD<br>20x4 gram                 | <b>53</b>   |
| VERVICELLI<br>500 gram                       | <b>51</b>   |
| HONIG<br>SPAGHETTI<br>pak 500 gram           | <b>75</b>   |
| APPELMOES<br>blik, 850 ml.                   | <b>32</b>   |
| LYTTTEWAAL PICCALILLY<br>pot, 600 ml.        | <b>68</b>   |
| JONKER FRIS WORTELN<br>blik, 425 ml.         | <b>33</b>   |
| GRÖENTE-, KIPPE- OF<br>TOMATENSOEP<br>zakje  | <b>15</b>   |
| HOMBURG LEVERPASTEI<br>200 gram              | <b>44</b>   |
| SALERNO SLASAUS<br>fles, 750 ml.             | <b>52</b>   |
| ONTBUTKOEK<br>450 gram                       | <b>39</b>   |
| LIGA EVERGREEN<br>pak 12 stuks               | <b>99</b>   |

### EXTRA VOORDEEL

ROODMERK KOFFIE  
4 pakken,  
250 gram



**3.65**

### EXTRA VOORDEEL

GOUDSE JONGE KAAS  
kilo



**3.52**

### EXTRA VOORDEEL

BONDUELLE HARICOTS  
VERTS  
blik, 420 gram OP - OP



**1.49**

### EXTRA VOORDEEL

SCHOUDEKARBONADE  
1000 gram



**2.09**

### EXTRA VOORDEEL

GENOOSTERDE ACHTERHAM  
100 gram



**0.63**

### EXTRA VOORDEEL

ROOMBOTER-  
STROOPWAFELS  
pak, 8 stuks



**99**

### EXTRA VOORDEEL

BOTERHAMKORRELS  
licht, donker of mix, zak  
300 gram



**47**

### EXTRA VOORDEEL

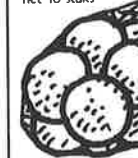
YOGHO-YOGHO  
diverse smaken  
pak, 1 liter



**49**

### EXTRA VOORDEEL

JAFFA HANDSINAAS-  
APPELEN  
net 10 stuks



**1.76**

|  |             |                                    |             |
|--|-------------|------------------------------------|-------------|
| BROSSY BESCHUIT<br>2 rollen                        | <b>74</b>   | ZOUTE<br>STENGELS<br>2 x 125 gram  | <b>63</b>   |
| BOTERHAM-<br>VLOKKEN<br>pak 200 gram               | <b>52</b>   | VRIESLOLLIES<br>10 x 50 ml         | <b>38</b>   |
| BETUWE EXTRA JAM<br>diverse soorten<br>450 gram    | <b>1.27</b> | CHOCOLAEDRANK<br>1 liter           | <b>43</b>   |
| PCD PINDAKAAS<br>pot, 350 gram                     | <b>50</b>   | GIANNI VERMOUTH<br>wit<br>750 ml   | <b>2.13</b> |
| THEEBISKWIE<br>pak 175 gram                        | <b>25</b>   | KEUKENROLLEN<br>tissue<br>3 stuks  | <b>1.14</b> |
| CAPRI REPEN<br>melk, puur. of hazelnoot<br>80 gram | <b>45</b>   | DIPPY TOILETPAPIER GRUS<br>4 stuks | <b>43</b>   |

# Alleen deze week.







|   |           |   |             |
|---|-----------|---|-------------|
| MILKY WAY<br>pak 8 stuks                      | <b>98</b> | GLORIX<br>1 liter                                       | <b>64</b>   |
| KING<br>PEPERMUNT<br>4 rollen                 | <b>75</b> | LUX AFWAS-<br>MIDDEL<br>500 ml                          | <b>99</b>   |
| STIMOROL<br>5 pak                             | <b>99</b> | GEZINSWASMIDDEL<br>zak,<br>2000 gram                    | <b>1.59</b> |
| ROOMBOTERKRAMELING<br>pak, 150 gram           | <b>75</b> | ROBIN WAS-<br>VERZACHTER<br>1450 ml                     | <b>1.28</b> |
| CRISPY CHIPS<br>div. smaken, zak,<br>175 gram | <b>69</b> | TOILETTAS<br>diverse dessins                            | <b>1.47</b> |
| APPELSAP<br>pak, 1 liter                      | <b>45</b> | JORDAN TANDENBORSTELS<br>hard, medium,<br>double action | <b>74</b>   |
| GOLDEN REGEN MARGARINE<br>pak 250 gram        | <b>20</b> | GEL TUBE<br>wetlook, styling,<br>fohn<br>150 ml         | <b>83</b>   |
| FRIES ROGGEBROOD<br>440 gram                  | <b>30</b> | DEURMAT SISAL   | <b>1.98</b> |
| HELLEMA KOEKEN<br>diverse<br>soorten pak      | <b>74</b> |   |             |
| KAASFLIPS OF<br>PINDAFLIPS<br>100 gram        | <b>45</b> |   |             |

Prijzen kunnen t.o.v. standaardprijzen en of  
andere aanbiedingen verschillen.  
Alle prijzen zijn inclusief btw van maximaal 21 april  
2015 tot eind april 2015.  
Overige prijzen gelden in de week 28 april 2015.



**Opdracht 28:**

**Je koopt steeds twee artikelen bij de Plus Markt. Noteer die artikelen, noteer hoeveel die twee artikelen samen kosten en noteer hoeveel geld je terugkrijgt! Koop steeds twee andere artikelen!**

|   |   |   |
|---|---|---|
| <p>Ik koop: _____ en _____</p> <p>Dat kost samen: _____</p> <p>Ik noteer: € _____ , _____</p> | <p>Ik heb:</p>   | <p>Ik krijg terug: _____</p> <p>€ _____ , _____</p> |
| <p>Ik koop: _____ en _____</p> <p>Dat kost samen: _____</p> <p>Ik noteer: € _____ , _____</p> | <p>Ik heb:</p> <br>  | <p>Ik krijg terug: _____</p> <p>€ _____ , _____</p> |
| <p>Ik koop: _____ en _____</p> <p>Dat kost samen: _____</p> <p>Ik noteer: € _____ , _____</p> | <p>Ik heb:</p>   | <p>Ik krijg terug: _____</p> <p>€ _____ , _____</p> |
| <p>Ik koop: _____ en _____</p> <p>Dat kost samen: _____</p> <p>Ik noteer: € _____ , _____</p> | <p>Ik heb:</p> <br> | <p>Ik krijg terug: _____</p> <p>€ _____ , _____</p> |

**Opdracht 29:**

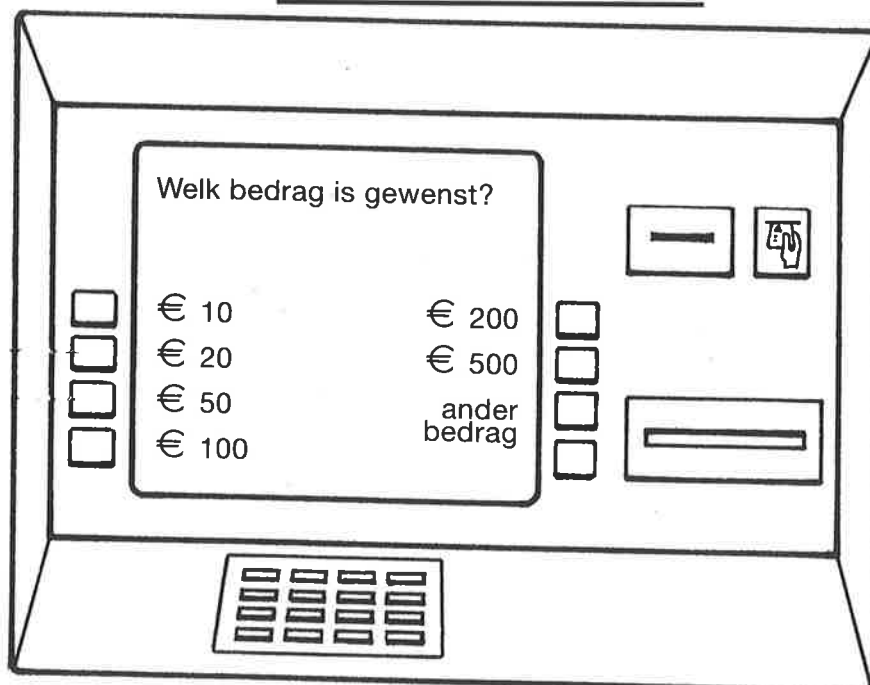
Je staat voor een pinautomaat van de Rabo-bank. Je wilt de volgende bedragen pinnen:

- € 550,00      € 320,00      € 170,00      € 110,00

Noteer voor elk bedrag drie verschillende mogelijkheden om dat bedrag te pinnen!

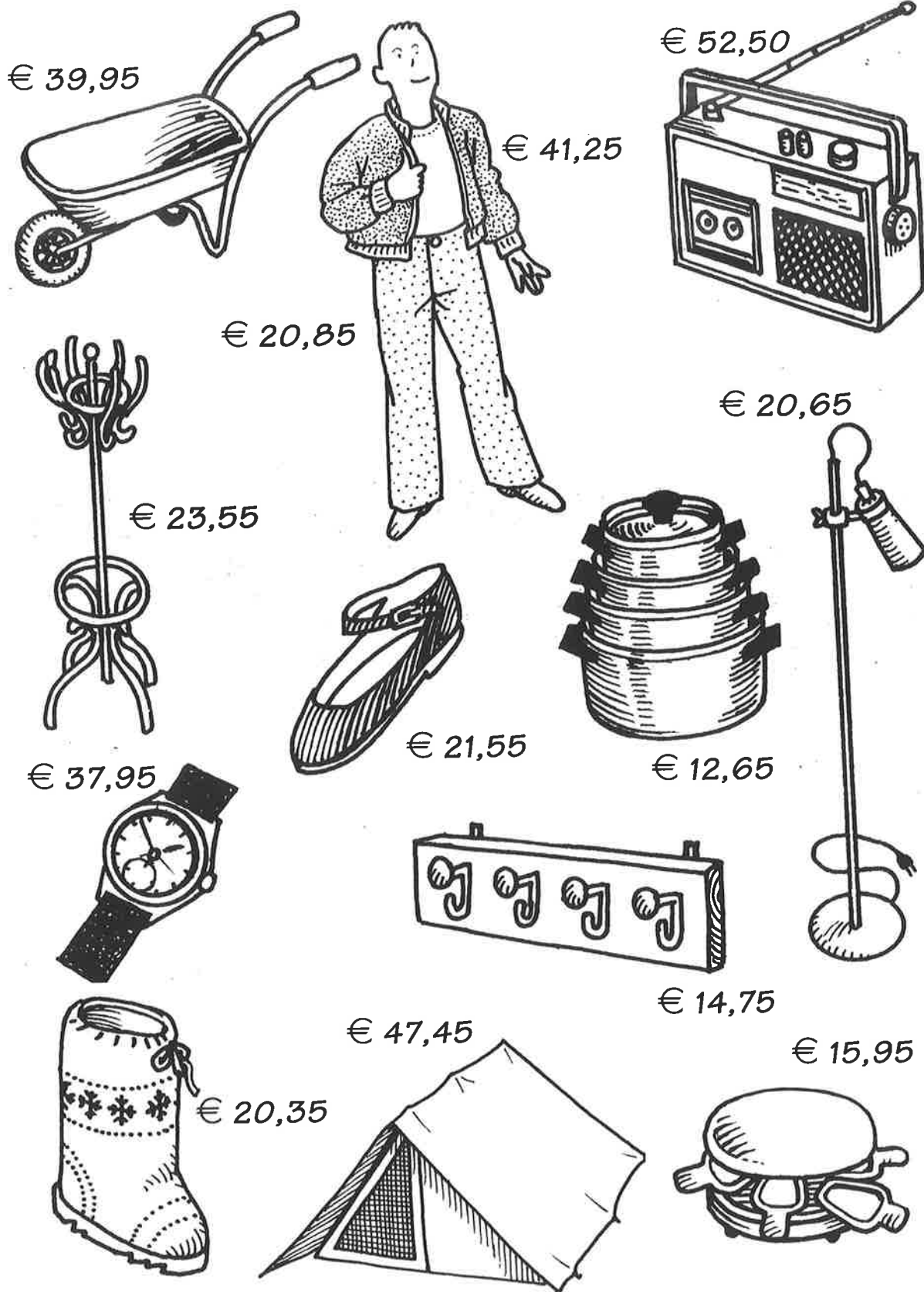
- € 550,00:
  - mogelijkheid 1: \_\_\_\_\_
  - mogelijkheid 2: \_\_\_\_\_
  - mogelijkheid 3: \_\_\_\_\_
- €320,00:
  - mogelijkheid 1: \_\_\_\_\_
  - mogelijkheid 2: \_\_\_\_\_
  - mogelijkheid 3: \_\_\_\_\_
- € 170,00:
  - mogelijkheid 1: \_\_\_\_\_
  - mogelijkheid 2: \_\_\_\_\_
  - mogelijkheid 3: \_\_\_\_\_
- € 110,00:
  - mogelijkheid 1: \_\_\_\_\_
  - mogelijkheid 2: \_\_\_\_\_
  - mogelijkheid 3: \_\_\_\_\_

**DE PINAUTOMAAT:**



**Opdracht 30:**






Je bent in het warenhuis "P en P". Je ziet de onderstaande artikelen. Bekijk deze artikelen!





**Opdracht 31:**

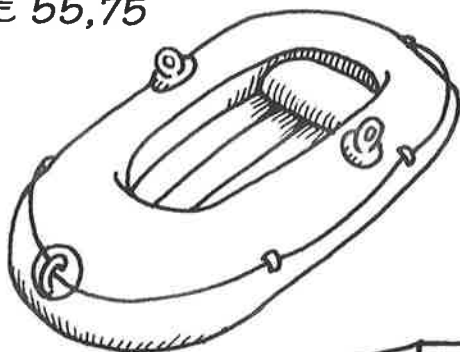
**Je koopt de onderstaande artikelen in het warenhuis "P en P". Vul het onderstaande overzicht in!**

|  |   |                 |
|--|---|-----------------|
| Ik koop:<br><br>een paar laarzen<br><br>€     ,  | Ik betaal met:<br><br>   | Ik krijg terug: |
| Ik koop:<br><br>een broek<br><br>€     ,         | Ik betaal met:<br><br>   | Ik krijg terug: |
| Ik koop:<br><br>een pannenset<br><br>€     ,     | Ik betaal met:<br><br> | Ik krijg terug: |
| Ik koop:<br><br>een paar schoenen<br><br>€     , | Ik betaal met:<br><br> | Ik krijg terug: |
| Ik koop:<br><br>1 een kapstok<br><br>€     ,     | Ik betaal met:<br><br> | Ik krijg terug: |

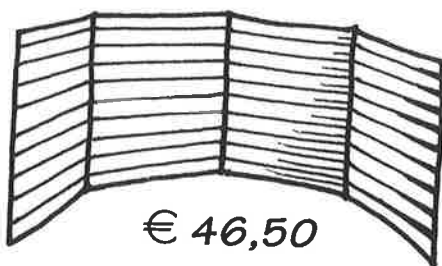
**Opdracht 32:**

In hetzelfde warenhuis "P en P" zijn ook de onderstaande artikelen te koop. Bekijk ze maar eens!

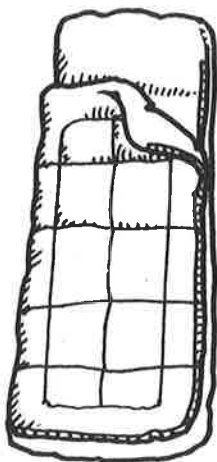
€ 55,75



€ 28,85



€ 46,50

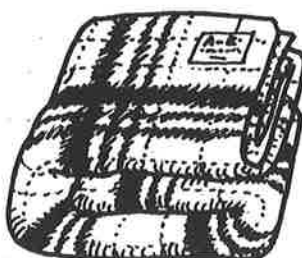


€ 49,80



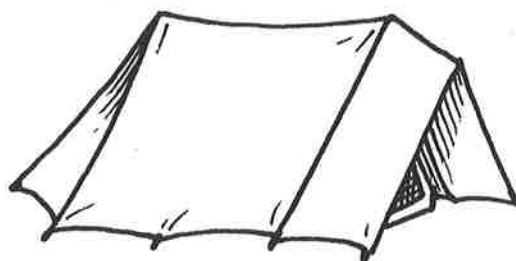
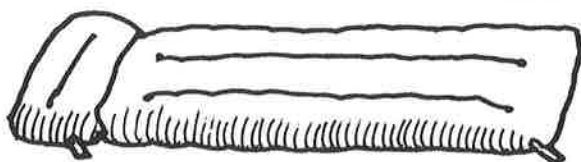
€ 19,45

€ 39,60



€ 58,40

€ 14,95



€ 1,70



€ 14,25



€ 64,30



**Opdracht 33:**

**Vul het onderstaande overzicht in! Koop alleen artikelen die op blz. 33 staan!**

Ik heb:

Ik heb:



| Ik koop:        | Ik krijg terug: | Ik koop:        | Ik krijg terug: |
|-----------------|-----------------|-----------------|-----------------|
| € _____ , _____ |                 | € _____ , _____ |                 |
| € _____ , _____ |                 | € _____ , _____ |                 |
| € _____ , _____ |                 | € _____ , _____ |                 |
| € _____ , _____ |                 | € _____ , _____ |                 |

**Opdracht 34:**

**De groenteafdeling van supermarkt Plus Markt heeft ook aanbiedingen. Bekijk de aanbiedingen! Vul dan de euro – bedragen eronder in!**

| AFDELING GROENTEN                     |                          |
|---------------------------------------|--------------------------|
| Prijslijst                            | Let op je voordeel!      |
| 1 Appelmoes<br>per blik .....         | € 0,80                   |
| 2 Sperziebonen<br>per blik .....      | € <del>1,05</del> € 0,99 |
| 3 Komkommer<br>per stuk .....         | € <del>0,40</del> € 0,35 |
| 4 Sinaasappelen<br>per 15 stuks ..... | € <del>3,35</del> € 3,19 |
| 5 Augurken<br>per pot .....           | € <del>1,30</del> € 1,25 |
| 6 Worteltjes<br>per blik .....        | € <del>1,10</del> € 0,99 |
| 7 Tomaten<br>per kg .....             | € <del>2,95</del> € 2,75 |
| 8 Vruchtendrank<br>per fles .....     | € <del>1,25</del> € 1,09 |
| 9 Radijs<br>per bos .....             | € <del>0,60</del> € 0,55 |
| 10 Meloen<br>per stuk .....           | € <del>2,25</del> € 2,05 |
| 11 Soeptomaten<br>per kg .....        | € <del>2,10</del> € 1,99 |

| Vandaag betaal ik voor:   | Anders betaal ik: |
|---|-------------------|
| 2 blikken appelmoes   | € ,               |
| 2 komkommers  | € ,               |
| 1 blik worteltjes   | € ,               |
| 2 bosjes radijs   | € ,               |
| 1 kg soeptomaten  | € ,               |
| samen € ,   | € ,               |
| <div style="border: 1px solid black; padding: 5px; display: inline-block;">                     Voordeel € ,                 </div> |                   |

**Opdracht 35:****Voor de laatste keer....****De prijslijsten van enkele afdelingen van de supermarkt Plus Markt.****Lees de prijslijst door en maak dan de opdracht 36 op de volgende bladzijde!**

| <b>BROOD EN BANKET</b> |        | <b>VLEES/VLEESWAREN</b>          |         |
|------------------------|--------|----------------------------------|---------|
| 1 bruin brood          | € 1,35 | 500 gram gehakt                  | € 3,19  |
| 1 wit brood            | € 1,35 | 100 gram ham                     | € 1,69  |
| ½ grof volkoren        | € 0,70 | 1 kg karbonade                   | € 6,15  |
| 1 hard broodje         | € 0,29 | 500 gram verse worst             | € 3,29  |
| 1 krentenbrood         | € 2,39 | 1 rookworst                      | € 1,79  |
| 1 krentenbol           | € 0,20 | 100 gram salami                  | € 1,30  |
| 1 stokbrood            | € 1,05 | 1 kg speklapjes                  | € 6,59  |
| ½ vloer volkoren       | € 0,70 | 100 gram knoflookpaté            | € 1,49  |
| 1 tompoes              | € 0,90 | 1 kg biefstuk                    | € 15,50 |
| 1 slagroomtaart        | € 7,95 | 500 gram varkenshaasjes          | € 4,99  |
| 1 croissant            | € 0,45 | 100 gram leverworst              | € 1,10  |
| 1 maanzaadbolletje     | € 0,29 | 100 gram rookvlees               | € 1,79  |
| 1 rol beschuit         | € 0,65 |                                  |         |
| <b>GROENTEN-FRUIT</b>  |        | <b>LEVENS MIDDELEN</b>           |         |
| 1 krop sla             | € 0,59 | 1 pak koffie                     | € 1,80  |
| 1 kg appels            | € 1,15 | 1 doosje thee                    | € 0,79  |
| 1 rode kool            | € 0,69 | 1 pak macaroni                   | € 1,15  |
| 500 gram tomaten       | € 1,15 | 1 pot chocopasta                 | € 1,35  |
| 1 kg peren             | € 0,90 | 1 pak pannenkoekenmix            | € 1,35  |
| 1 zak sinaasappels     | € 1,89 | 1 pak kruidenmix Chili Con Carne | € 0,90  |
| 1 kg wortels           | € 1,50 | 1 blikje ananas, 227 gram        | € 0,79  |
| 500 gram boontjes      | € 1,80 | 1 pak hagelslag                  | € 1,19  |
| 5 kg aardappels        | € 1,25 | 1 pot appelmoes                  | € 1,15  |
| 1 kg bananen           | € 1,80 | 1 pot appelstroop                | € 1,05  |
| 1 pot bruine bonen     | € 0,85 | 1 blik tomatensoep               | € 1,59  |
| 100 gr. champignons    | € 0,39 | 1 pot aardbeienjam               | € 1,65  |
| rode paprika's p.st.   | € 0,43 | 1 busje witte peper              | € 0,99  |
| gele paprika's p.st.   | € 0,43 | 1 kg zout                        | € 0,55  |
| groene paprika's       | € 0,40 | 1 kg suiker                      | € 0,90  |
|                        |        | 1 bus poedersuiker               | € 0,69  |
|                        |        | 1 kg bloem                       | € 0,85  |
|                        |        | 1 pak rijst                      | € 0,90  |

**Opdracht 36:**

Je gaat de wekelijkse boodschappen doen in supermarkt Plus Markt. Je hebt € 200,00 bij je. Je koopt de onderstaande artikelen. Hoeveel geld houd je dan over?

| <u>WELK ARTIKEL?</u> | <u>AANTAL?</u> | <u>DAT KOST?</u> |
|----------------------|----------------|------------------|
| - suiker             | 2 kg           | €                |
| - krop sla           | 3 stuks        | €                |
| - gehakt             | 1 kg           | €                |
| - witte peper        | 1 busje        | €                |
| - sinaasappels       | 3 zakken       | €                |
| - tompoes            | 8 stuks        | €                |
| - leverworst         | 300 gram       | €                |
| - tomatensoep        | 4 blikken      | €                |
| - champignons        | 500 gram       | €                |
| - beschuit           | 3 rollen       | €                |
| - hagelslag          | 2 pakken       | €                |
| - slagroomtaart      | 1 taart        | €                |
| - salami             | 400 gram       | €                |
| - appelmoes          | 5 potten       | €                |
| - stokbrood          | 4 broden       | €                |
| - ham                | 300 gram       | €                |
| - bruin brood        | 2 broden       | €                |
| - rode paprika's     | 8 stuks        | €                |
| - rookworst          | 3 stuks        | €                |
| - croissants         | 12 stuks       | €                |
| - speklapjes         | 2 kg           | €                |
| - wortels            | 2 kg           | €                |
|                      | <b>Totaal:</b> | €                |

Je hebt: € 200,00

Je moet betalen: € \_\_\_\_\_

€ \_\_\_\_\_ houd je over!

**Opdracht 37:**

**Betaal met zo weinig mogelijk euro-bankbiljetten en euro-muntgeld!  
Hoeveel euro-bankbiljetten en euro-muntgeld heb je nodig?**

| <b>Geld<br/>be –<br/>drag</b> | <b>Brief<br/>-<br/>je<br/>van<br/>€500</b> | <b>Brief<br/>-<br/>je<br/>van<br/>€200</b> | <b>Brief<br/>-<br/>je<br/>van<br/>€100</b> | <b>Brief<br/>-<br/>je<br/>van<br/>€50</b> | <b>Brief<br/>-<br/>je<br/>van<br/>€20</b> | <b>Brief<br/>-<br/>je<br/>van<br/>€10</b> | <b>Brief<br/>-<br/>je<br/>van<br/>€5</b> | <b>Euro<br/>-<br/>munt<br/>van<br/>€2</b> | <b>Euro<br/>-<br/>munt<br/>van<br/>€1</b> |
|-------------------------------|--|--|--|---|---|---|--|---|---|
| €3300                         |  |  |  |   |   |   |  |   |   |
| €4936                         |  |  |  |   |   |   |  |   |   |
| €5047                         |  |  |  |   |   |   |  |   |   |
| €6158                         |  |  |  |   |   |   |  |   |   |
| €7269                         |  |  |  |   |   |   |  |   |   |
| €8370                         |  |  |  |   |   |   |  |   |   |
| €9481                         |  |  |  |   |   |   |  |   |   |
| €1593                         |  |  |  |   |   |   |  |   |   |
| €2605                         |  |  |  |   |   |   |  |   |   |
| €3717                         |  |  |  |   |   |   |  |   |   |
| €4829                         |  |  |  |   |   |   |  |   |   |
| €5930                         |  |  |  |   |   |   |  |   |   |
| €6048                         |  |  |  |   |   |   |  |   |   |
| €7156                         |  |  |  |   |   |   |  |   |   |
| €8264                         |  |  |  |   |   |   |  |   |   |
| €9372                         |  |  |  |   |   |   |  |   |   |
| €1980                         |  |  |  |   |   |   |  |   |   |
| €2891                         |  |  |  |   |   |   |  |   |   |
| €3703                         |  |  |  |   |   |   |  |   |   |
| €4695                         |  |  |  |   |   |   |  |   |   |
| €5586                         |  |  |  |   |   |   |  |   |   |
| €6477                         |  |  |  |   |   |   |  |   |   |
| €7368                         |  |  |  |   |   |   |  |   |   |
| €8259                         |  |  |  |   |   |   |  |   |   |

**Opdracht 38:****Welk geldbedrag heb je steeds? Tel al het euro – geld bij elkaar op!**

| <b>Welk<br/>geld<br/>be-<br/>drag<br/>heb<br/>je?</b> | <b>Brief<br/>-<br/>je<br/>van<br/>€500</b> | <b>Brief<br/>-<br/>je<br/>van<br/>€200</b> | <b>Brief<br/>-<br/>je<br/>van<br/>€100</b> | <b>Brief<br/>-<br/>je<br/>van<br/>€50</b> | <b>Brief<br/>-<br/>je<br/>van<br/>€20</b> | <b>Brief<br/>-<br/>Je<br/>van<br/>€10</b> | <b>Brief<br/>-<br/>je<br/>van<br/>€5</b> | <b>Euro<br/>-<br/>munt<br/>van<br/>€2</b> | <b>Euro<br/>-<br/>munt<br/>van<br/>€1</b> |
|---|--|--|--|---|---|---|--|---|---|
|   | 1  | 6  | 10   | 12  | 20  | 50  | 100                                      | 120                                       | 975                                       |
|   | 2  | 5  | 8  | 10  | 15  | 45  | 90                                       | 134                                       | 941                                       |
|   | 3  | 4  | 6  | 6   | 10  | 49  | 80                                       | 145                                       | 23  |
|   | 4  | 3  | 4  | 5   | 5   | 25  | 21                                       | 156                                       | 368                                       |
|   | 5  | 3  | 2  | 3   | 1   | 20  | 28                                       | 167                                       | 198                                       |
|   | 6  | 4  | 1  | 5   | 0   | 35  | 27                                       | 178                                       | 467                                       |
|   | 7  | 9  | 3  | 12  | 12  | 30  | 35                                       | 189                                       | 478                                       |
|   | 8  | 10   | 5  | 11  | 16  | 18  | 56                                       | 190                                       | 123                                       |
|   | 9  | 3  | 7  | 10  | 18  | 22  | 47                                       | 246                                       | 234                                       |
|   | 10   | 12   | 8  | 8   | 20  | 25  | 38                                       | 248                                       | 456                                       |
|   | 8  | 1  | 9  | 6   | 30  | 28  | 29                                       | 345                                       | 567                                       |
|   | 6  | 2  | 12   | 4   | 11  | 9   | 91                                       | 23  | 789                                       |
|   | 4  | 3  | 14   | 2   | 9   | 0   | 20                                       | 45  | 4   |
|   | 2  | 4  | 16   | 13  | 7   | 12  | 11                                       | 964                                       | 987                                       |
|   | 1  | 5  | 20   | 24  | 5   | 9   | 14                                       | 234                                       | 876                                       |
|   | 3  | 6  | 8  | 7   | 4   | 7   | 18                                       | 567                                       | 765                                       |
|   | 5  | 7  | 3  | 11  | 3   | 5   | 10                                       | 582                                       | 654                                       |
|   | 7  | 8  | 5  | 0   | 8   | 40  | 39                                       | 512                                       | 543                                       |
|   | 9  | 9  | 7  | 3   | 21  | 90  | 37                                       | 518                                       | 432                                       |
|   | 10   | 10   | 9  | 21  | 4   | 38  | 35                                       | 512                                       | 321                                       |
|   | 3  | 1  | 2  | 18  | 8   | 65  | 46                                       | 634                                       | 87  |
|   | 12   | 11   | 20   | 6   | 9   | 80  | 49                                       | 813                                       | 23  |
|   | 15   | 12   | 22   | 9   | 22  | 100                                       | 47                                       | 825                                       | 2   |
|   | 3  | 17   | 14   | 10  | 12  | 2   | 45                                       | 9   | 105                                       |